

## DUM č. 20 v sadě

### 20. Ze-2 Evropa

Autor: Drahomír Hlaváč

Datum: 30.6.2014

Ročník: 2AV, 3AV


Anotace DUMu: Závěrečné opakování II. Regiony Evropy

Materiály jsou určeny pro bezplatné používání pro potřeby výuky a vzdělávání na všech typech škol a školských zařízení. Jakékoliv další využití podléhá autorskému zákonu.




INVESTICE DO ROZVOJE VZDĚLÁVÁNÍ

# ZÁVĚREČNÉ OPAKOVÁNÍ II



# Regiony Evropy – test

- ▶ 1.) Kterým státům se říká země Beneluxu?
  - ▶ 2.) Které státy řadíme mezi Pobaltské země?
  - ▶ 3.) Vyjmenuj nástupnické státy bývalé Jugoslávie
  - ▶ 4.) Které země Evropy jsou konstituční monarchie?
- 

# Doplň chybějící údaje k dané zemi

PORTUGALSKO

hlavní město

sousední země

měna

státní zřízení

BĚLORUSKO

hlavní  
město

sousední  
země

měna

státní  
zřízení

ŠVÉDSKO

hlavní  
město

sousední  
země

měna

státní  
zřízení

ISLAND

hlavní  
město

sousední  
země

měna

státní  
zřízení

ESTONSKO

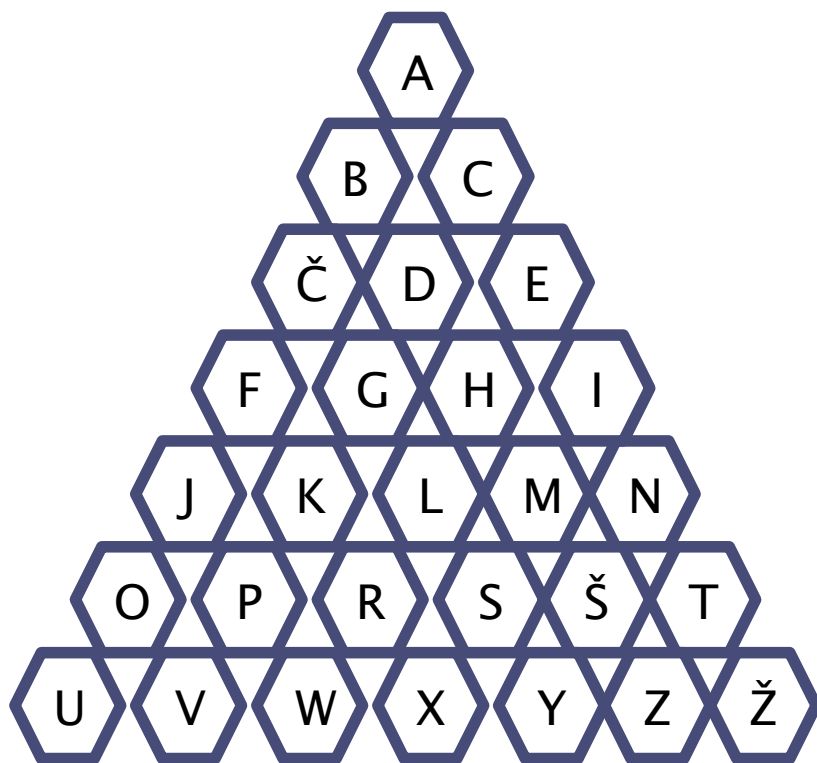
hlavní  
město

sousední  
země

měna

státní  
zřízení





A historické území na jihu Španělska

B politicko–hospodářské uskupení tří evropských zemí

C tradiční chorvatské letoviště

Č autonomní republika na severním Kavkaze

D pravý přítok Dunaje. Protéká např. Rakouskem, Slovinskem

E nálevkovité ústí

F sídlo ESA v Itálii. Nedaleko Říma

G polský přístav

H světový název pro Maďarsko

I chorvatský poloostrov

J poloostrov oddělující Severní a Baltské moře

K nejstarší evropské vrásnění

L obyvatelstvo severní části Evropy

M nejvyšší pevninský vrchol Španělska

N název pro oblast v severní Francii

O německá automobilka

R největší evropský přístav

S název italské sopky

Š město na řece Odře v severozápadním Polsku

T hlavní město Albánie

U nejstarší univerzita v severní Evropě


V oblast v Srbsku s početnou Maďarskou menšinou

W maďarská nízkonákladová letecká společnost

X nejznámější křovák

Y zlatonosná řeka v Severní Americe

Z ostrov v západní části Řecka  
Ž neformální středisko francouzsky mluvícího  
obyvatelstva ve Švýcarsku



# Zdroje

- ▶ Pavel Kantorek, Sylvie Mikulcová, Zeměpis II. v kostce, Fragment, 2008, ISBN 978-80-253-0585-0
- ▶ Jeřábek Milan, Anděl Jiří, Peštová Jana, Kastner Jiří, Zeměpis 8 pro ZŠ a VG UČ, Fraus, ISBN 978-80-7238-517-1
- ▶ Školní atlas světa, Kartografie Praha, 2012, ISBN 9788073930745