

DUM č. 15 v sadě

20. Ze-2 Evropa

Autor: Drahomír Hlaváč

Datum: 30.6.2014

Ročník: 2AV, 3AV

Anotace DUMu: Orientace I. Slepá mapa Evropa varianta A.

Materiály jsou určeny pro bezplatné používání pro potřeby výuky a vzdělávání na všech typech škol a školských zařízení. Jakékoliv další využití podléhá autorskému zákonu.

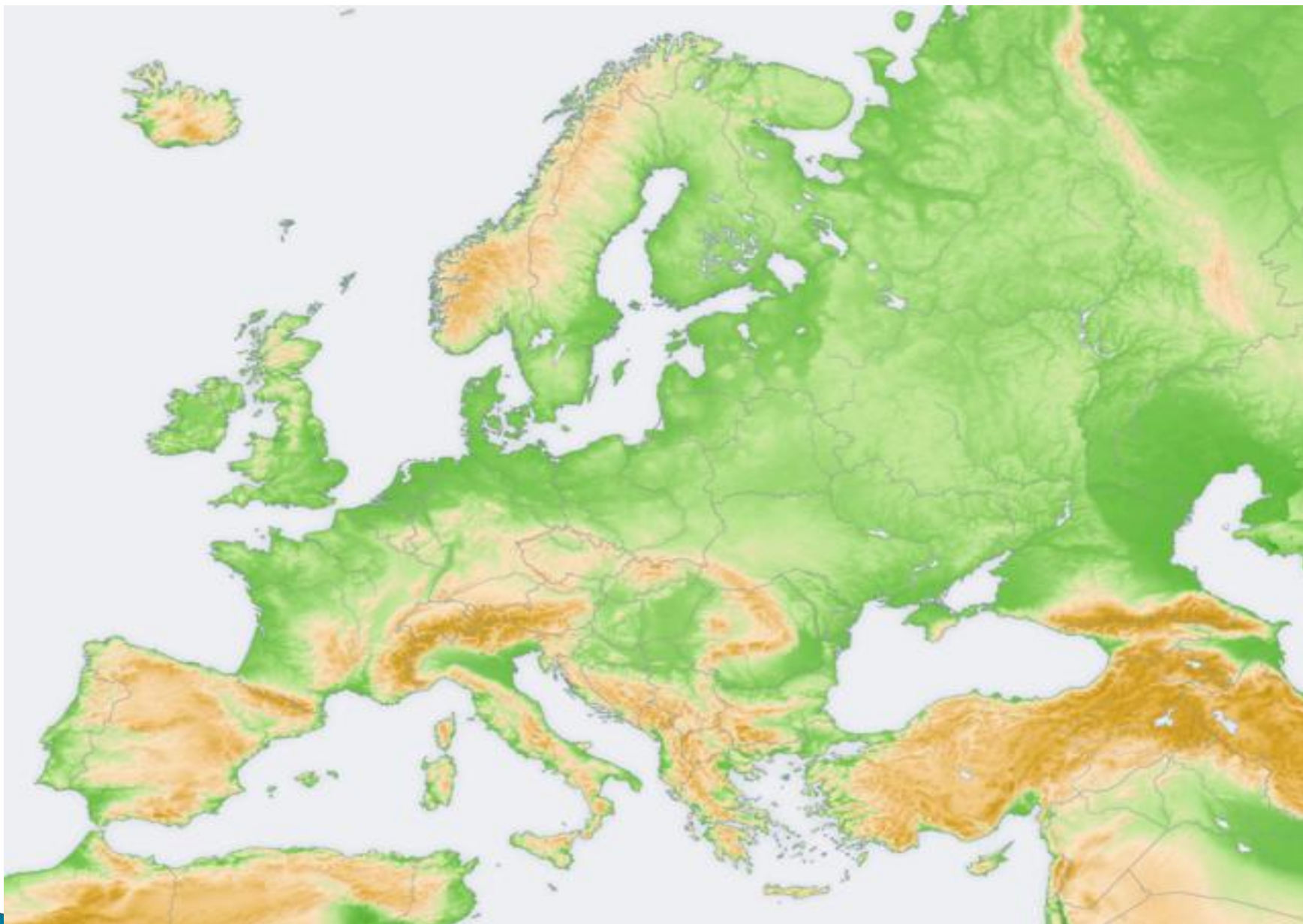


INVESTICE DO ROZVOJE VZDĚLÁVÁNÍ

ORIENTACE I


Variant A

- ▶ do přiložené mapy zaznač pod uvedenými čísli následující pojmy z orientace



http://cs.wikipedia.org/wiki/Evropa#mediaviewer/Soubor:Europe_topography_map.png

1




Pyrenejský poloostrov

2



Rýn

3



Maasa

4




Sardínie

5




Vesuv

6




Skandinávský poloostrov

7



Východo-evropská nížina

8




Baleáry

9




Pindos

10




Kréta

11



Gibraltar

12




Jutský poloostrov

13




Dněpr

14




Velká uherská nížina

15




Francouzské středohoří

16




Korsika

17




Balaton

18



Ladožské jezero

Odpovídej bez atlasu

- 1.) kterými státy protéká řeka Dunaj
 - 2.) se kterými zeměmi sousedí Německo
 - 3.) kterými státy se táhnou Karpaty
 - 4.) kterými zeměmi prochází rovnoběžka 50° s.š.
 - 5.) urči pevninské sousedy Francie
 - 6.) kterými státy protéká řeka Dráva
 - 7.) ve které zemi najdeš nejvyšší vrchol Evropy
- 

Zdroje

- ▶ Školní atlas světa, Kartografie Praha, 2012, ISBN 9788073930745
- ▶ http://cs.wikipedia.org/wiki/Evropa#mediaviewer/Soubor:Europe_topography_map.png