

## DUM č. 7 v sadě

### 20. Ze-2 Evropa

Autor: Drahomír Hlaváč

Datum: 30.6.2014

Ročník: 2AV, 3AV

Anotace DUMu: Evropa. Střední Evropa.

Materiály jsou určeny pro bezplatné používání pro potřeby výuky a vzdělávání na všech typech škol a školských zařízení. Jakékoliv další využití podléhá autorskému zákonu.





INVESTICE DO ROZVOJE VZDĚLÁVÁNÍ

# STŘEDNÍ EVROPA


---



- ▶ ekonomicky vyspělé země:
    - Německo, Rakousko, Švýcarsko, Lichtenštejnsko
  - ▶ postsocialistické země:
    - Polsko, Česko, Slovensko, Maďarsko
  - ▶ převládají vnitrozemské státy (kromě Německa a Polska)
  - ▶ mírné podnebí, na západě převážně oceánské
- 

- ▶ nejvýznamnější řekou **Dunaj**
  - ▶ černé uhlí – Porúří, Hornoslezská pánev
  - ▶ hnědé uhlí – Středoněmecká pánev
  - ▶ draselné soli – Hannover a Kassel
- 


# Německo

- ▶ Urči zeměpisné souřadnice hlavního města
  - ▶ Jaká měna se v zemi používá?
  - ▶ Vyhledej nejvyšší vrchol území
  - ▶ Které ostrovy jsou součástí státu
  - ▶ Se kterými zeměmi má stát hranici
  - ▶ Pokus se namalovat vlajku
- 

## Doplň text

- ▶ Povrch Německa se stupňovitě zvedá od ..... k jihu ..... Nejvyšším pohořím jsou ..... s největším vrcholem ..... Nejvýznamnější vodní cestou je průplav Rýn – ..... – ..... V Německu se nachází spousta jezer. Největší z nich leží na hranici ..... států a nese název ..... Největší hustotu obyvatel najdeme v průmyslových oblastech ..... a ....., kde je zároveň velké naleziště ..... uhlí. V městě ..... se nachází největší letiště ve střední Evropě. Německo je spolkovým státem a administrativně se člení do ..... spolkových zemí. Největší spolkovou zemí je ..... Berlín je hlavním městem od roku .....

# Švýcarsko


- ▶ Urči zeměpisné souřadnice hlavního města
  - ▶ Jaká měna se v zemi používá?
  - ▶ Vyhledej nejvyšší vrchol území
  - ▶ Se kterými zeměmi má stát hranici
  - ▶ Pokus se namalovat vlajku
- 

4 úřední  
jazyky

Nestlé

bankovníctví

referenda



kantony


CERN

neutralita

CIBA



# Rakousko

- ▶ Urči zeměpisné souřadnice hlavního města
  - ▶ Jaká měna se v zemi používá?
  - ▶ Vyhledej nejvyšší vrchol území
  - ▶ Se kterými zeměmi má stát hranici
  - ▶ Pokus se namalovat vlajku
- 

9 spolkových  
zemí

Grossglockner

Dunaj

hydroelektrárny




Habsburkové

fén


Vídeňská  
pánev

sůl kamenná


# Polsko

- ▶ Urči zeměpisné souřadnice hlavního města
  - ▶ Jaká měna se v zemi používá?
  - ▶ Vyhledej nejvyšší vrchol území
  - ▶ Se kterými zeměmi má stát hranici
  - ▶ Pokus se namalovat vlajku
- 

# Maďarsko

- ▶ Urči zeměpisné souřadnice hlavního města
  - ▶ Jaká měna se v zemi používá?
  - ▶ Vyhledej nejvyšší vrchol území
  - ▶ Se kterými zeměmi má stát hranici
  - ▶ Pokus se namalovat vlajku
- 

# Slovensko

- ▶ Urči zeměpisné souřadnice hlavního města
  - ▶ Jaká měna se v zemi používá?
  - ▶ Vyhledej nejvyšší vrchol území
  - ▶ Se kterými zeměmi má stát hranici
  - ▶ Pokus se namalovat vlajku
- 

# Test

**Nejvyšší horou Německa je**

- A. Grossglockner
- B. Zugspitze
- C. Grosser Falkenstein
- D. Brocken

# Lyžařská střediska v Innsbrucku nalezneme v

- A. Německu
- B. Rakousku
- C. Maďarsku

# Švýcarsko je známo především

A. výrobou aut

B. výrobou hračkami firmy LEGO

C. bankovníctvím



# Hlavním městem Švýcarska je


- A. Bern
- B. Curych
- C. Basel

# Debrecín je město v

- A. Rakousku
- B. Maďarsku
- C. Polsku

*Doplň k mezinárodním poznávacím značkám názvy států ležících ve střední Evropě.*

- ▶ SK ..... H .....
- ▶ CH..... A.....
- ▶ PL ..... D.....
- ▶ CZ .....



# Zdroje

- ▶ Pavel Kantorek, Sylvie Mikulcová, Zeměpis II. v kostce, Fragment, 2008, ISBN 978-80-253-0585-0
- ▶ Jeřábek Milan, Anděl Jiří, Peštová Jana, Kastner Jiří, Zeměpis 8 pro ZŠ a VG UČ, Fraus, ISBN 978-80-7238-517-1
- ▶ Školní atlas světa, Kartografie Praha, 2012, ISBN 9788073930745
- ▶ [http://cs.wikipedia.org/wiki/%C5%A0v%C3%BDcarsko#mediaviewer/Soubor:Flag\\_of\\_](http://cs.wikipedia.org/wiki/%C5%A0v%C3%BDcarsko#mediaviewer/Soubor:Flag_of_)
- ▶ [http://cs.wikipedia.org/wiki/Rakousko#mediaviewer/Soubor:Flag\\_of\\_Austria.svg](http://cs.wikipedia.org/wiki/Rakousko#mediaviewer/Soubor:Flag_of_Austria.svg)