

DUM č. 5 v sadě

20. Ze-2 Evropa

Autor: Drahomír Hlaváč

Datum: 30.6.2014

Ročník: 2AV, 3AV

Anotace DUMu: Evropa. Obyvatelstvo.


Materiály jsou určeny pro bezplatné používání pro potřeby výuky a vzdělávání na všech typech škol a školských zařízení. Jakékoliv další využití podléhá autorskému zákonu.



INVESTICE DO ROZVOJE VZDĚLÁVÁNÍ

EVROPA – OBYVATELSTVO




- ▶ nejhustěji zalidněný světadíl
 - ▶ obyvatelstvo se soustřeďuje do pobřeží, nížin a podél řek
 - ▶ za poslední dvě století se počet obyvatel Evropy více než ztrojnásobil
- 


Hustota zalidnění

- ▶ v jednotlivých částech světadílu rozdílné hodnoty hustoty zalidnění
- ▶ neobydlené horské a odlehlé oblasti
- ▶ obchodní a průmyslová centra (více než 300 obyv. na km²)
- ▶ nejvyšší hustota (mimo malé státy):
Nizozemsko, Belgie, Velká Británie
- ▶ nejnižší hustota:
Island


Přirozený pohyb

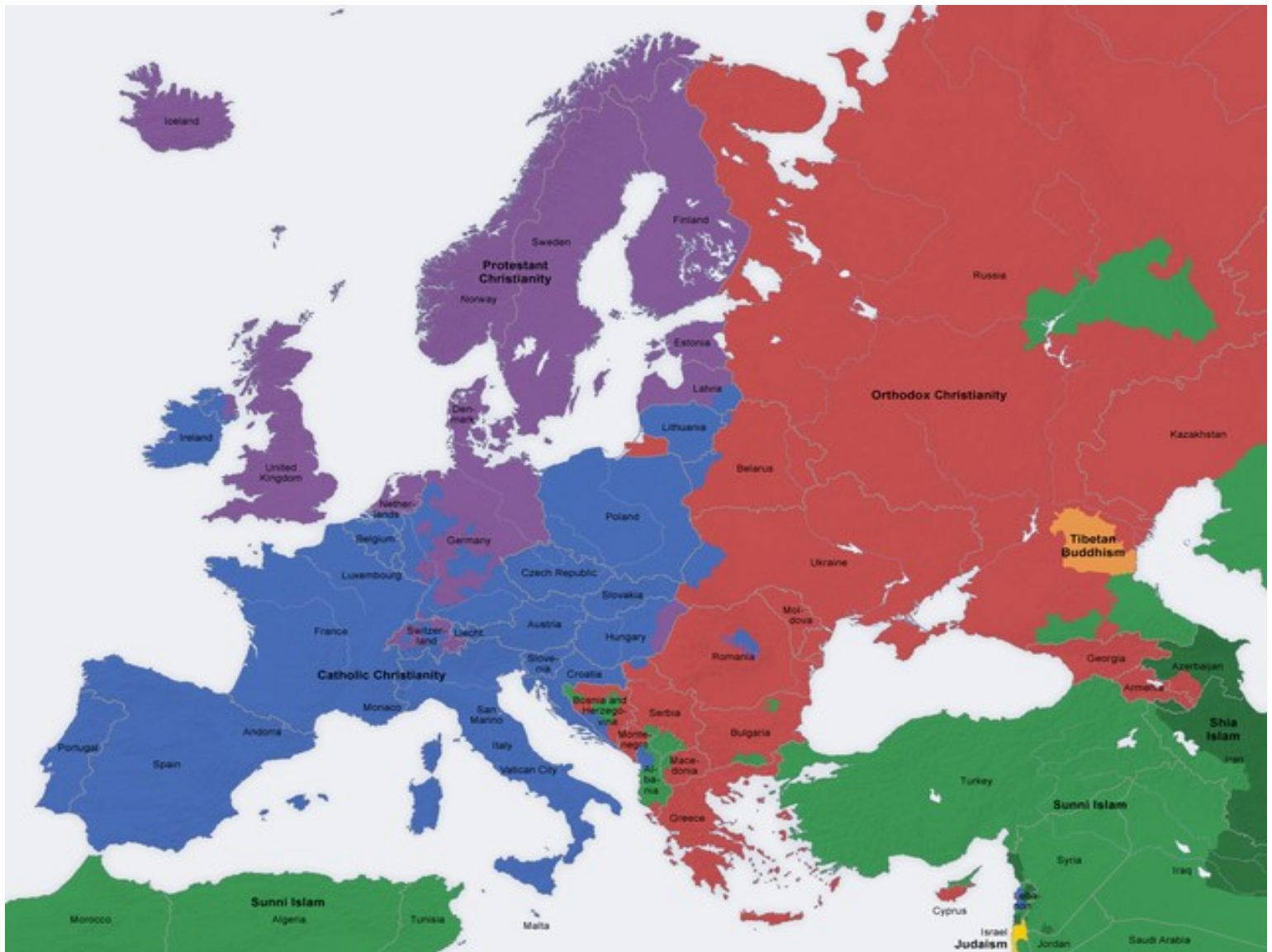
- ▶ počet obyvatel Evropy přibývá nejpomaleji ze všech světadílů
 - ▶ v některých státech úbytek obyvatelstva
 - ▶ nízká porodnost
 - ▶ rozdíly v úrovni kojenecké úmrtnosti mezi západem a východem
- 

Struktura obyvatelstva

- ▶ vyrovnaný počet mužů a žen
 - ▶ ženy se dožívají vyššího věku
 - ▶ **zjistěte průměrnou délku života u mužů a žen v Evropě. Porovnejte s ČR**
 - ▶ většina obyvatel europoidní rasa
 - ▶ nejpočetnější indoevropská jazyková skupiny
- 

Náboženství

- ▶ která barva na následující mapě značí:
 - 1.) římskokatolickou církev
 - 2.) pravoslavnou církev
 - 3.) protestantskou církev
 - 4.) Islám
- 



http://cs.wikipedia.org/wiki/Europa#mediaviewer/Soubor:Europe_religion_map_en.png

Evropská demografická nej

- ▶ **nejlidnatější státy:**
- ▶ **1. Rusko–150mil.**(evropská část téměř 120mil.)
- ▶ **2. Německo–80mil.**
- ▶ **Dále: VB, Francie, Itálie ,Španělsko = okolo 60mil.**
- ▶ **Ukrajina–50mil.**
- ▶ **ČR–10mil** (podobně mají Belgie, Švédsko, Maďarsko, Portugalsko, Řecko)
- ▶ **nejméně lidnatým státem je Vatikán–1000 obyvatel**
- ▶

- ▶ 2.nejhustěji zalidněný světadíl–cca 66 obyv./km²
- ▶ nejhustěji zalidněným státem vyjma ministátů je **Nizozemí–395obyv./km²**
- ▶ nejmenší hustota zalidnění v severských zemích–**Island 30/km², Norsko14, Finsko150/km²**
- ▶ na hustotu zalidnění měla velký vliv Průmyslová revoluce a s tím související urbanizace=urbanizační proces=dochází k relativnímu i absolutnímu růstu velikosti měst, probíhá zejména ve střední a západní Evropě
- ▶ ve městech se soustřeďuje téměř 70% obyvatelstva


▶ nejhustěji obydlené oblasti:


- ▶ Střed VB–Manchester, Liverpool, Birmingham
- ▶ Porúří–průmyslové srdce evropy..Kolín nad Rýnem, Duisburg, Franfurkt nad Mohanem, (Štrasburg)
- ▶ S Itálie–Milán, Turín, Benátky
- ▶ Benelux–Radstadt holland=Amsterdam, Rotterdam, Haag, Utrecht)
- ▶ hodnota urbanizace stoupá s vyspělostí státu, jedinou výjimkou je Portugalsko – většina obyvatel zde žije na venkově





- ▶ největší aglomerace => **Paříž a Londýn**
- ▶ megalopole–**anglická a rýnsko–porúrská**
- ▶ nejnižší urbanizaci má **Albánie asi 35%**

Dělení obyvatelstva podle jazyků

- ▶ Slovanské jazyky:
 - ▶ západní: Češi, Poláci, Slováci a Lužičtí Srbové
 - ▶ východní: Rusové, Ukrajinci a Bělorusové
 - ▶ jižní: Bulhaři, Chorvati, Slovinci, Srbové, Černohorci a Makedonci)
- 

- ▶ Germánské jazyky:
 - ▶ východní: nepoužívají se
 - ▶ severní: Island, Švédsko, Norsko, Dánsko
 - ▶ západní: Angličtina, Němčina, Nizozemí, Vlámština, jidiš
- 

- ▶ **Románské jazyky:** Itálie, Francie, Španělsko, Portugalsko, Rumunsko, Moldávie, katalánština, galičtina
 - ▶ **Keltské jazyky:** Irsko, Wales, bretonština, galština
 - ▶ **Pobaltské jazyky:** Litva, Lotyšsko
 - ▶ **Helénské jazyky:** Řecko
 - ▶ Samostatně stojí **Albánština**
- 

- ▶ **Ugrofinská jazyková skupina:** Finsko, Estonsko, Maďarsko, baskytština
 - ▶ **Semitohamitská jazyková skupina:** Židé a Arabové
 - ▶ **Altajská jazyková skupina:** Turci a Tataři
- 

Problémy evropské populace

- ▶ Největším problémem je **stárnutí** obyvatel ve vyspělých zemí
- ▶ Zvyšující se příliv uprchlíků z afrických zemí

Zdroje

- ▶ Pavel Kantorek, Sylvie Mikulcová, Zeměpis II. v kostce, Fragment, 2008, ISBN 978-80-253-0585-0
- ▶ Jeřábek Milan, Anděl Jiří, Peštová Jana, Kastner Jiří, Zeměpis 8 pro ZŠ a VG UČ, Fraus, ISBN 978-80-7238-517-1
- ▶ Školní atlas světa, Kartografie Praha, 2012, ISBN 9788073930745
- ▶ [http://cs.wikipedia.org/wiki/Evropa#mediaviewer/Soubor:Europe_religion_map_en.](http://cs.wikipedia.org/wiki/Evropa#mediaviewer/Soubor:Europe_religion_map_en)