

Třída: Jméno a příjmení: Datum:

1. Půda je:

humus =

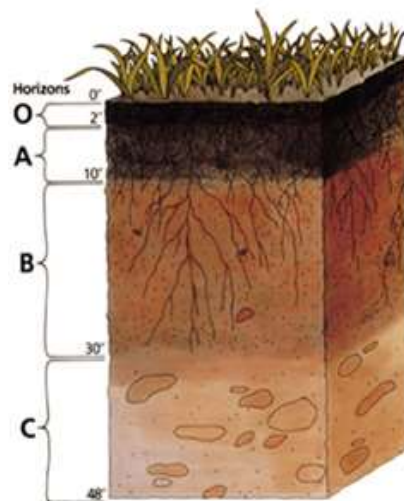
2. půdami se zabývá věda

3. Půdní druhy je členění půd na základě Napiš tři půdní **druhy** a popiš jejich hospodaření s vodou:

- a.
- b.
- c.

4. **Napiš a popiš** jednotlivé vrstvy půdního profilu

- O –
- A –
- B –
- C –



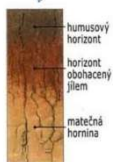
5. **Půdní typy** vymežeme na základě na tyto:

a. černozem



b. hnědozem

hnědozem



c. kambizem




d. podzol



e. rendzina



f. nivní půdy



6. vliv člověka na půdy (příčina, následky, možná řešení)

a) desertifikace



b) zasolování



c) kontaminace



d) kyselá dešť

