

Plzeňský kraj                      SPZ: **P**                      jméno, příjmení:  
 krajské město: ..... (počet obyv.:  
 počet obyvatel:                      v roce  
 rozloha:  
 hustota obyv:  
 nejvyšší bod + n. v.:

PLK je 3. největším krajem (po STČ a JHČ), 8. nejlidnatějším.  
 Hustota zalidnění je 3. nejmenší v rámci ČR (po JHČ a VYS).

PLK se dělí na 7 okresů:

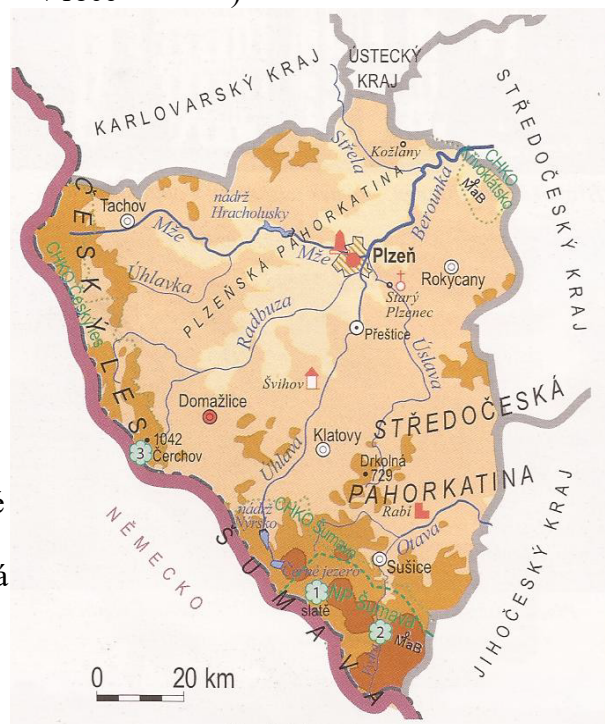
**Povrch:**

na hranici SRN a PLK se nachází pohoří....., které zasahuje do JHČ a na německé straně na ní navazuje ..... Nejvyšší vrchol Šumavy (SRN) se nazývá ..... je 7,4 km na JZ od obce Železná Ruda. Druhé příhraniční pohoří s nejvyšším vrcholem Čerchov (1042) se nazývá ..... Prostor mezi výše zmíněnými pohořími vyplňuje ..... která je nižší a mezi 14. a 17. stoletím byla hlídána místními obyvateli tzv. ...., majícími výsadní práva. Centrální prostor kraje vyplňuje ..... pahorkatina. Na JV se pak nachází ..... pahorkatina. Ze STČ vybíhá ..... a ..... vrchovina. Z KVK vybíhá ..... resp. Karlovarská vrchovina.


**Vodstvo:**

nejmohutnějším tokem v kraji, který vzniká soutokem ..... a ....., je ....., která se však původně jmenovala ..... V 17. století byl poprvé tento tok označen dnešním názvem. Pravostranným přítokem Radbuzy je ..... a pravostr. přítokem právě vzniklé Berounky je ..... Levostranným přítokem Berounky je ..... J kraje je odvodňován levostranným přítokem Vltavy - ....., která vzniká soutokem řek ..... a ..... Mezi těmito zdrojnicemi je navíc zbudován kanál, který v minulosti sloužil k plavení dřeva ze Šumavy: ..... Na řece Mži se nachází v.n. ...., na Radbuze je v. n. .... a na Úhlavě ..... Šumava disponuje 5 ledovcovými jezery, napiš od největšího po nejmenší: ..... - největší, ....., ..... (jediné v JHČ, zároveň není karové), ....., ..... (nejmenší, nejvýše položené, nejmělčí). karové jezero =

v roce ( )



**Nerostné suroviny + průmysl:** kraj má k dispozici ložiska kaolinu v Kaznějově (největší ve stř. Evropě), jinak je surovinově chudý.



**Služby:**

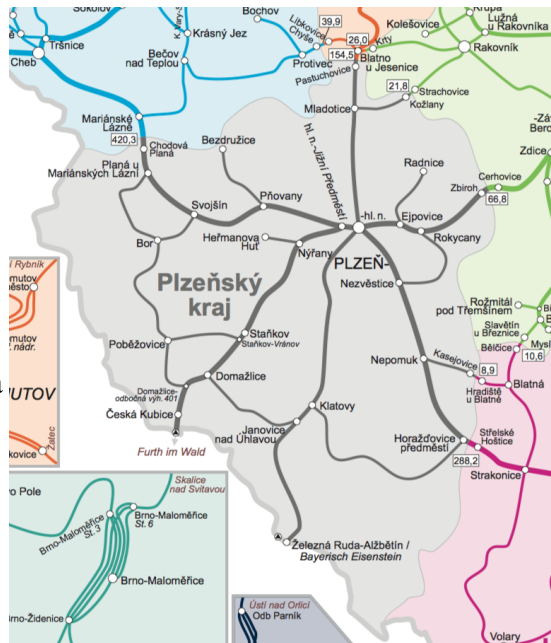
Největším turistickým lákadlem PLK je bezesporu Šumava.  
Významným lyžařským střediskem je .....

**Doprava železniční:**

Významnou žel. tepnou je spojnice mezi Chebem → ..... → ČB. Další významná trať vede z Plzně na bavorské město ..... (přes přechod Česká Kubice). Mezi další hraniční žel. přechody patří ..... V roce 2020 byla schválena výstavba první části úseku vysokorychlostní železnice (Plzeň-Stod, do r. 2026), která bude v dalších fázích spojit zmíněné krajské město s Bavorskem

**Doprava silniční:**

Významným dálničním tahem propojujícím ČR a německé město Norimberk je ..... Na ní se nachází hraniční přechod .....



Přehled projektů Ředitelství silnic a dálnic

→ rok 2023

